

Уважаемые родители! Предлагаем вашему вниманию, занимательные игры и занятия математикой

1. Вспомнить порядковый счёт от 1 до 10.
 2. Вспомнить обратный счёт от 10 до 1.
 3. Посчитайте от 3 до 9, от 4 до 8.
 4. Посчитайте от 10 до 5, от 7 до 3.
 6. Угадай число, живущее между числами 5 и 7, 4 и 6, 9 и 7.
 7. Какое число больше 3 или 4, 7 или 8.
 8. Какое число меньше 1 или 3, 10 или 6.
- Молодцы! Справились с первым заданием.

• **«Размышляйка».**

Поиграем в игру «Молчанка».

- Я вам буду задавать вопросы, а ответ на вопросы вы мне будете показывать карточкой с цифрой. Самое главное условие - говорить в этой игре нельзя, можно только показывать карточку.

Вопросы:

- Сколько пальцев на правой руке?
- Сколько глаз у светофора?
- Сколько носов у двух собак?
- Сколько ушей у двух мышей?
- Сколько хвостов у двух котов?

у какой фигуры 3 угла, 3 стороны?

у какой фигуры противоположные стороны одинаковые?

у какой фигуры все стороны равны?

у какой фигуры нет углов?

- **А теперь поиграем в другую игру.** Я буду вам показывать геометрические фигуры, а вы назовёте предметы на которые они похожи.

Сколько времён года?

Сколько месяцев у каждого времени года?

Сколько месяцев в году?

Сколько недель в каждом месяце?

Сколько дней в неделе?

Какой сегодня день недели?

- **Физкультминутка:**

Вспомним названия дней недели.

В понедельник мы купались, *(изображают плавание)*

А во вторник рисовали, *(изображают рисование)*

В среду долго умывались, *(умывание)*

А в четверг в футбол играли. *(бег на месте)*

В пятницу мы прыгали, бегали, *(прыгают)*


Очень долго танцевали, *(кружатся на месте)*

А в субботу, воскресенье целый день мы отдыхали. *(хлопают в ладоши)*

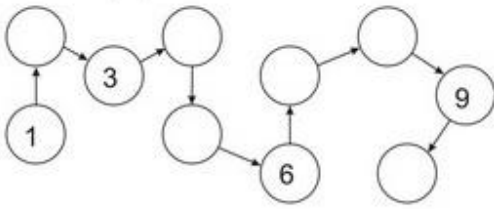
- **Будем рисовать по клеточкам под диктовку.** В тетрадке стоит красная точка. От этой точки мы будем работать дальше:
 - 1) 2 клетки вправо .2) 1 клетка вверх. 3) 1 клетка вправо. 4) 1 клетка вверх.
 - 5) 1 клетка вправо. 6) 3 клетки вниз. 7) 4 клетки вправо. 8) 1 клетка вверх.
 - 9) 1 клетка вправо. 10) 5 клеток вниз. 11) 2 клетки влево. 12) 2 клетки вверх.
 - 13) 3 клетки влево. 14) 2 клетки вниз. 15) 2 клетки влево. 16) 4 клетки вверх.
 - 17) 2 клетки влево. 18) 1 клетка вверх
 (Собака).



- Какое сейчас время года? (Весна)
- Назовите соседей весны. (Зима, лето)
- Назовите весенние месяцы по порядку. (март, апрель, май)
- Назовите пропущенный месяц: декабрь, ..., февраль. (Январь)
- Назовите пропущенный месяц: октябрь, ..., декабрь. (Ноябрь)
- Назовите соседей зимы. (Осень, весна)
- Назовите осенние месяцы по порядку. (Сентябрь, октябрь, ноябрь).
- Назовите зимние месяцы по порядку. (Декабрь, январь, февраль).
- Назовите соседей лета. (Весна, осень).
- Назовите летние месяцы по порядку. (Июнь, июль, август).
- Назовите все месяцы по порядку: сентябрь...(Дети передают мяч друг другу).
- Скажите, с какого месяца начинается календарный год? (С января).
- А каким месяцем год заканчивается? (Декабрём).
- Сколько всего месяцев в году? (12)
- Сколько всего времён года? (4)



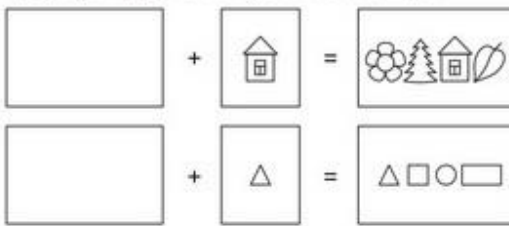
Заполни ряд:



Реши примеры:

$1 + 1 =$	$4 + 1 =$	$7 + 1 =$
$2 + 1 =$	$5 + 1 =$	$8 + 1 =$
$3 + 1 =$	$6 + 1 =$	$9 + 1 =$

Дорисуй предметы в пустых клеточках.



Реши примеры:

$10 - 8 = \square$ $9 - 8 = \square$

Покажи при помощи цветных карандашей решение примеров:

○ ○ ○ ○ ○ ○ ○ ○ ○ ○ ○ ○	$5 + 5 = \square$
○ ○ ○ ○ ○ ○ ○ ○ ○ ○	$6 + 2 = \square$
○ ○ ○ ○ ○ ○ ○ ○ ○ ○	$4 + 5 = \square$
○ ○ ○ ○ ○ ○ ○ ○ ○ ○	$5 + 1 = \square$

Заштрихуй каждый второй квадрат:

Напиши соседние числа



	5	
--	----------	--

	3	
--	----------	--

	6	
--	----------	--

	2	
--	----------	--

	8	
--	----------	--

	4	
--	----------	--

	7	
--	----------	--

	9	
--	----------	--

	1	
--	----------	--