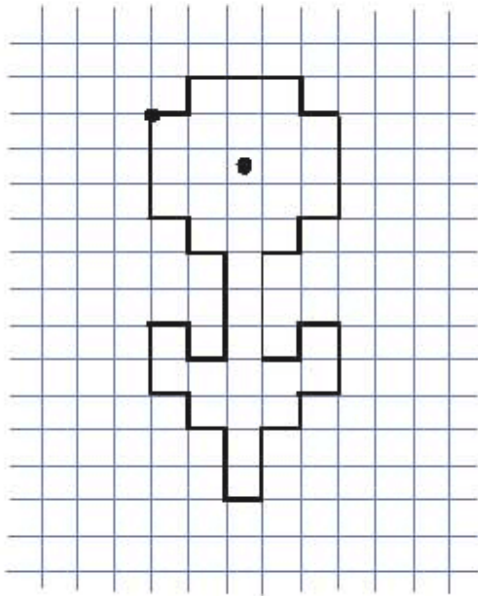



**Уважаемые родители** предлагаем вам с ребенком выполнить следующие задания.



Отступи 3 клетки слева, 3 клетки сверху, ставь точку и начинай рисовать

1 →	1 ←	1 ←	1 →
1 ↑	3 ↓	2 ↓	1 ↓
3 →	1 →	1 ←	1 →
1 ↓	1 ↑	2 ↑	3 ↑
1 →	1 →	1 ←	1 ←
3 ↓	2 ↓	1 ↑	1 ↑
1 ←	1 ←	1 ←	1 ←
1 ↓	1 ↓	2 ↑	3 ↑

• Покажи цыплят по порядку. Помоги курице-маме их сосчитать. Считай так: «Первый, второй...». А теперь посчитай цыплят в обратном порядке. Считай так: «Десятый, девятый...».



? Реши задачу.

Пятачку подарили 6 шариков, а Винни-Пуху на 1 меньше.  
Сколько шариков подарили Винни-Пуху?



$$6 - 1 = \square$$


$$\square - \square = \square$$



Обведи числа, которые меньше 7.

7 9 3 1 8 5 6 4

Нарисуй 5 воздушных шариков и 3 мяча. Чего больше?  
Чего меньше? На сколько?



Уважаемые родители просим вас прислать фотоотчет воспитателям по совместной деятельности с детьми.